

مدرسة فاطمة بنت اليمان م /ب
قسم الاجتماعيات
بنك معلومات الصف السادس
مادة الاجتماعيات
الفصل الدراسي الأول
الإعداد :- المعلمة شيماء عبدالرحمن
تجميع أوراق العمل من معلمات متميزات
لايمكن نكران جهودهم
أ. شيماء عبدالرحمن / أ. ريم الهاجري / أ. جلييلة الدغيم
أ. شيخة الجحيل

من خلال الخريطة ساعدني يا جميلة الصف السادس باستكمال
الفقرة من خلال الاستعانة بالكلمات مابين الأقواس :-

تدريبات للصف السادس
لمادة الاجتماعيات
للفصل الدراسي الأول
٢٠١٧ - ٢٠١٨ م



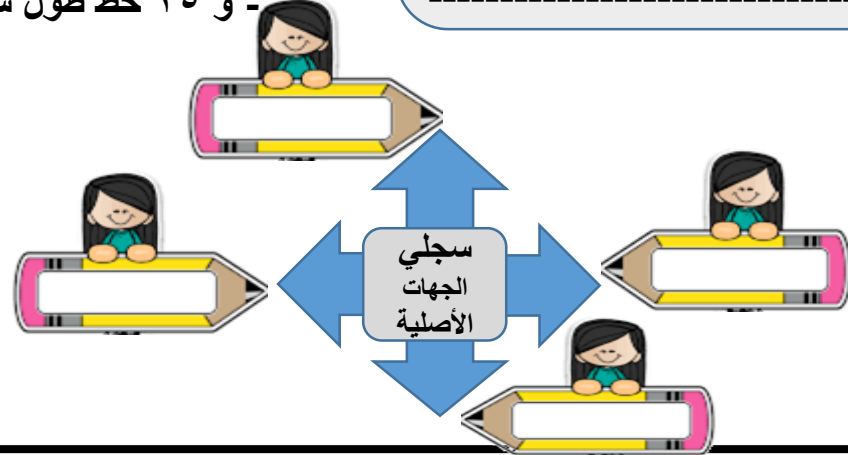
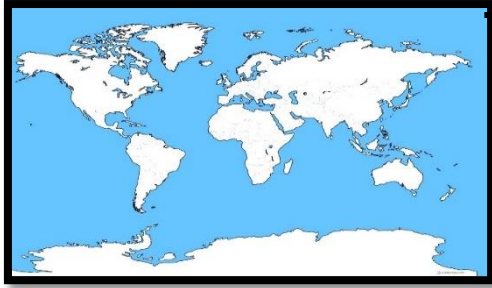
(قارة آسيا - جغرافية - ١٦ - جرينتش - شبه الجزيرة - خط الاستواء)

عرفي مايلي :-

- الموقع الفلكي :-

- الموقع النسبي :-

- تمتاز ----- العربية بموقع متميز من الناحيتين الفلكية و-----
من ناحية الموقع الجغرافي فهي تقع في أقصى جنوب غرب -----
ومن حيث الموقع الفلكي فهي تشغل ----- درجة عرضية شمال -----
- و ٢٥ خط طول شرق -----



ب) صل بين كل من المفهوم والتعريف بوضع الرقم في المكان المناسب

المفهوم	لرقم	التعريف
١. الخليج العربي .		موقع الدولة بالنسبة لخطوط الطول ودوائر العرض
٢. الموقع النسبي		موقع الدولة ما بالنسبة للماء واليابس
٣. الموقع الفلكي		ذراع مائي لبحر العرب يمتد من خليج عمان جنوبا حتى شط العرب شمالا

شكرا لحسن اصغافك
طالبتي العزيزة لكل سؤال
نجمة كم نجمة حصلتي يا
تري !؟



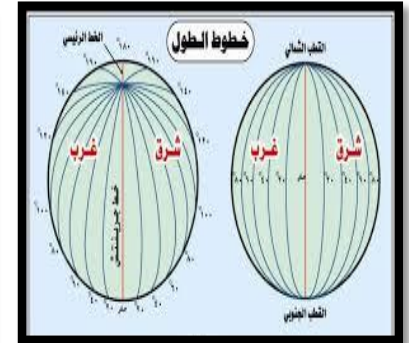
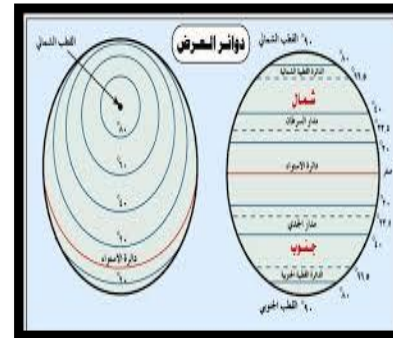


النجاح
حقيقك
بيادن الله

تدريبات للصف السادس
لمادة الاجتماعيات
للفصل الدراسي الأول
م ٢٠١٧-٢٠١٨ م

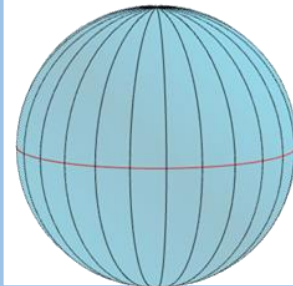
- أنتي ذكية قارني بين الشكلين التاليين من حيث المفهوم :-

دوائر العرض	خطوط الطول



عدد دوائر العرض ١٨٠ دائرة	
موقع الدولة بالنسبة لليابس و الماء هو الموقع الفلكي	
تطل دول الخليج على مسطح مائي هو الخليج العربي	
تقع شبة الجزيرة العربية بالنسبة لقارة آسيا في الجهة الشمالية الشرقية	

• جميلتي ضلتي العبارة الصحيحة
بتضليل المربع :-



ما هو المعروف أمامك :-

- عرفي المفاهيم التالية :-

التضاريس :-

الجبل :-

تدريبات للصف السادس
لمادة الاجتماعيات
للفصل الدراسي الأول
م ٢٠١٧- ٢٠١٨ م

اكمل الآتي بترتيب الأحرف التالية :-

ج - ن - د

هضبة

ا - خ - ر - أ - ض - ل

الجبل



قدها
وقدود

ل-ج-ا-ل-و-ز-ا-ر

تلال



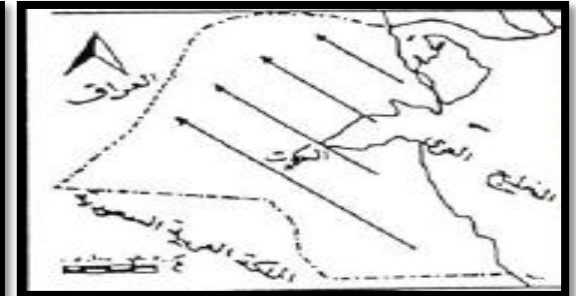
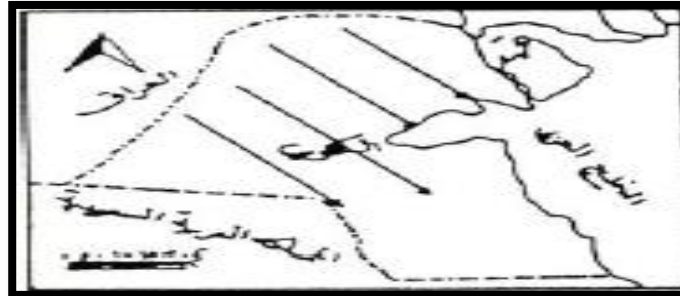
كوني خبيرة الأرصاد الجوية اوصفي لنا مناخ دول الخليج العربية :-

خبيرة أرصاد الصف السادس ساعدنا في التذكر تهب على دول
الخليج العربية ٣ أنواع من الرياح عديها :-

١.
٢.
٣.

ماهو المناخ؟

.....
.....
.....



موفقة

ينقسم النبات الطبيعي
في دول الخليج
العربية إلي نوعين :-

تدريبات للصف السادس
لمادة الاجتماعيات
للفصل الدراسي الأول
م ٢٠١٧-٢٠١٨

•صنفي في الجدول التالي أسماء الحيوانات الموجودة فيما بين القوسين :-

(السحالي - الغزلان - الأغنام - الذئاب - الضب - الماعز - الإبل - الثعابين - الذئاب)


حيوانات برية	حيوانات غير مستأنسة	حيوانات مستأنسة

ضعي الرقم من القائمة (أ) أمام ما يناسبها من القائمة (ب)

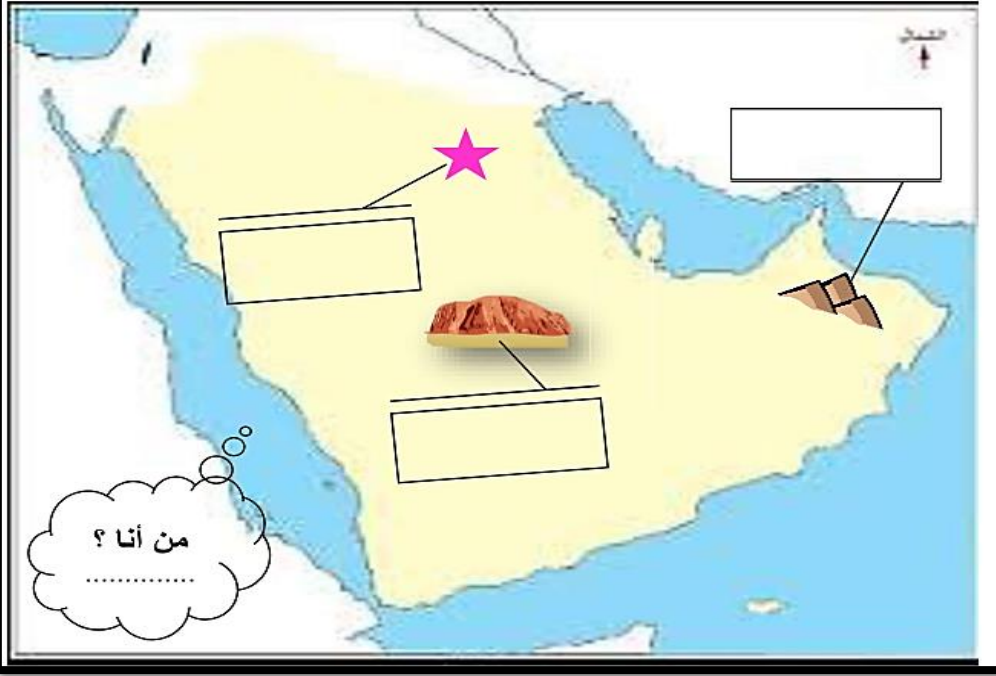
ب	الرقم	أ
أرض مرتفعه سطحها مستوي، وتمتد مساحه كبيرة		١-جبال
كل مرتفع له قمه لا يقل ارتفاعه عن ١٠٠٠ متر تقريباً		٢- سهول
أجزاء فسيحه من سطح الأرض تتميز باستوائها وقله ارتفاعها		٣-هضاب

النبات الحولي

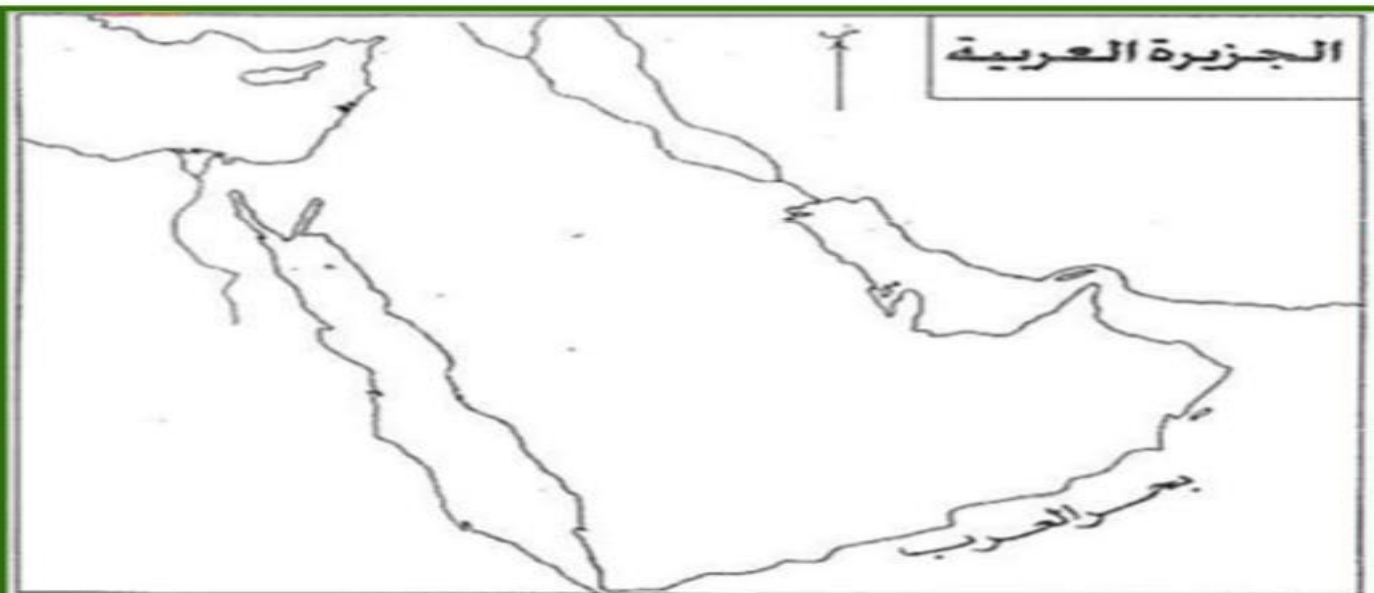
اذكري
يا شطورة
مميزات
النبات
الحولي



نشاط ٢: ألصق الأماكن التضاريسية في مكانها المناسب على خريطة شبه الجزيرة العربية



تدريبات للصف السادس
لمادة الاجتماعيات
للفصل الدراسي الأول
٢٠١٧ - ٢٠١٨ م



هيا نحدد معاً مظاهر
السطح الموجودة في
شبه الجزيرة العربية
مع تلوين الخريطة ..
«شاهدي خريطة كتاب
مدرسي ص ٢٣
للمساعدة في هذه
المهمة»

ارسمى بريشة فنان :-

إذا علمت ان الصورة هي لاحد التضاريس له قمه لا تقل عن ١٠٠٠ متر



تدريبات للصف السادس
لمادة الاجتماعيات
للفصل الدراسي الأول
٢٠١٧- ٢٠١٨ م



قارني بين كل من :-

ضلل الكلمة التي لا تنتمي
للمجموعة :-

الأخضر

جبال شبة
الجزيرة العربية

عسير

جال الزور

الحجاز

ضب

سحلية

من الحيوانات غير
المستأنسة

ثعبان

جمل

فصل الشتاء

فصل الصيف

وجه المقارنة

درجة الحرارة

أهم ما يميز كل
فصل

النبات الحولي

النبات المعمر

وجه المقارنة

التعريف

الأنواع



اجيبي أمام كل سؤال ضعي
الإجابة

تدريبات للصف السادس
لمادة الاجتماعيات
للفصل الدراسي الأول
٢٠١٧- ٢٠١٨ م

أعطني لما يأتي

كانت حياة السكان في البيئة الصحراوية
لدول الخليج العربية قاسية وخشنة .

انصرف سكان دول الخليج العربي عن حرفة الغوص .

ممارسته سكان دول الخليج العربية للأنشطة التجارية .

سفينته البغلة من أفضل أنواع السفن المستعملة في
رحلة السفر .

اكتبي المدلول للكلمات التالية :-


الميدار + الحظرة + قرقور =

هامور + زبيدي + ميد =

الغواص + السيب + التباب =

البوم + البغلة + الجالبوت =

ساعديني في إيجاد حل التساؤل التالي



كم يبلغ عدد السنوات
في القرن الواحد ؟
.....

تدريبات للصف السادس
لمادة الاجتماعيات
للفصل الدراسي الأول
٢٠١٧ - ٢٠١٨ م



300



فسري الكلمة بعد اكتشافها

.....
.....
.....
.....
.....

٥
حروف

.....



ض	ث	ر	ي	ا	م	١٢
ك	آ	ح	ن	ك	ه	→

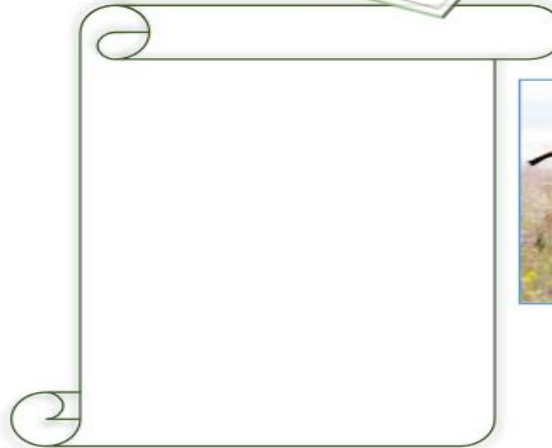
١- اكمل البطاقة التعريفية للنباتات في مجموعتك في جدول النباتات المعمره و الحولية

نباتات حولية	نباتات معمره	المطلوب (المقارنه)
		اكتب اسم النبات في بطاقه مجموعتك في المكان الصحيح من حيث التصنيف
		أمثله أخرى للنباتات
		التعريف

تدريبات للصف السادس
لمادة الاجتماعيات
للفصل الدراسي الأول
٢٠١٧ - ٢٠١٨ م



٢- اكتب رساله شكر للأفراد والمؤسسات والدولة عن الجهود المبذولة في المحافظة على البيئة والحياه الطبيعيه



تدريبات للصف السادس
لمادة الاجتماعيات
للفصل الدراسي الأول
٢٠١٧ - ٢٠١٨ م



هيا تكمل مخطط فصل
الصيف الجميل بالاستعانة
بقصاصات المعلمة

درجات حراره في
الصيف

بيئة صحراويه
قاسية وجافه

فصل
الصيف

نوع المناخ

خصائصه

- على لما يلي :-

- الحياة النباتية و الحيوانية في دول الخليج
العربية فقيرة بصفة عامة .

• صنف في الجدول التالي أسماء الحيوانات الموجودة فيما
• بين القوسين :-
(السحالي - الغزلان - الأغنام - الذئاب - الضب -
الماعز - الإبل - الثعابين - الذئاب)

حيوانات برية	حيوانات غير مستأنسة	حيوانات مستأنسة



على كل إجابة صحيحة ستحصلين على كلمة تشجيعية
تكتب داخل البالونة :-

- السؤال الأول :- عددي الأنشطة البرية :-




تدريبات للصف السادس
لمادة الاجتماعيات
للفصل الدراسي الأول
٢٠١٧-٢٠١٨ م

- ضعي المصطلح العلمي للتعريف التالية :

١. () هي مياة موجودة في باطن الأرض .
٢. () هي منطقة تقع في الصحراء فيها مياة عذبة .

• ضعي تعليق مناسب تحت الصورة :-





**تدريبات للصف السادس
لمادة الاجتماعيات
للفصل الدراسي الأول
٢٠١٧-٢٠١٨ م**

اسم اليوم
الذي ينتهي
فيه موسم
الغوص

اخرج من
باطن الأرض
لونى أسود

اعتبر من أقوى
السفن اتحمل
المخاطر
والحمولة الكبيرة


- اكمل قصة الغوص على اللؤلؤ بالكلمات المناسبة :-

يبدأ موسم الغوص من أوائل الصيف (شهر -----) وينتهي في
(شهر -----) أي أنه يستمر لمدة ----- أشهر وتسمى
بداية موسم الغوص (-----) أما نهايته فيسمونه (-----)

صلي صاحب المهنة لهدفه وتعرفي عليه من هو :-

١- تعاوني مع مجموعتك في تلوين أشهر موسم الغوص (من الدشه الى القفال) على المخطط الزمني الذي أمامك :

يناير	فبراير	مارس	ابريل	مايو	يونيو	يوليو	أغسطس	سبتمبر	أكتوبر	نوفمبر	ديسمبر
-------	--------	------	-------	------	-------	-------	-------	--------	--------	--------	--------



٢- صنفى المهن التالية بمكانها المناسب في الجدول :

نوخذة - مجدي - طواش - السيب

نوع العمل	ربان السفينة	تاجر اللؤلؤ	بسحب الغاصة	رئيس البحرية
المهنة				

٣- تعرفي على اسم المهنة من خلال الصور التالية:



٤- علي / انصرف سكان دول الخليج العربية عن حرفة الغوص



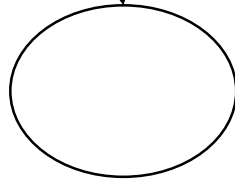
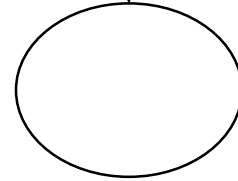
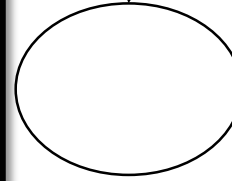
--	--	--



--	--	--

تدريبات للصف السادس
لمادة الاجتماعيات
للفصل الدراسي الأول
٢٠١٧-٢٠١٨ م

اذكري الوسائل القديمة المستخدمة في الصيد

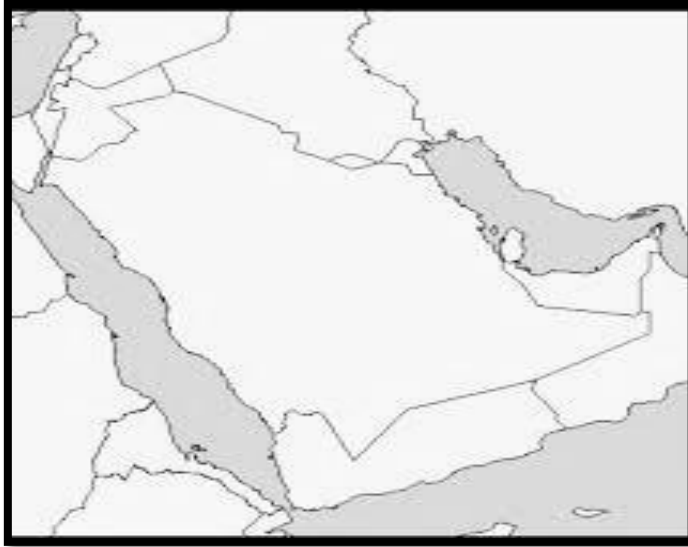


- حوطي على خريطة شبة الجزيرة العربية المسطح المائي :-

يطلق علي الخليج العربي قديما :-

1.-----

2.-----



- صلي يا ذكية المربع بالعبرة المناسبة :-

حضارة هليستية

حضارة دلمون

حضارة مجان

قد عثر على العديد من أفران صهر المعادن و كذلك اشتهرت بوجود معدن النحاس

تدريبات للصف السادس
لمادة الاجتماعيات
للفصل الدراسي الأول
م ٢٠١٧ - ٢٠١٨ م

300

فسري الكلمة بعد اكتشافها

ه حروف

ض	ث	ر	ي	ا	م	تم
ت	آ	ح	ن	ك	ه	→

ساعديني في إيجاد حل التساؤل التالي

كم يبلغ عدد السنوات في القرن الواحد ؟

٥٠ ١٠ ٢٠ ٢٠

عرفي المفهوم التالي :-

تدريبات للصف السادس
لمادة الاجتماعيات
للفصل الدراسي الأول
٢٠١٧ - ٢٠١٨ م

الجليب (القليب) :-



• اختاري الاجابة الصحيحة من الاجابات المتعددة :-

أ. التجارة

ب. الزراعة

أ. العاشر

ب. السابع

ج. رعي الاغنام

ظهر الإسلام في القرن :-


د. الخامس

ج. الثامن

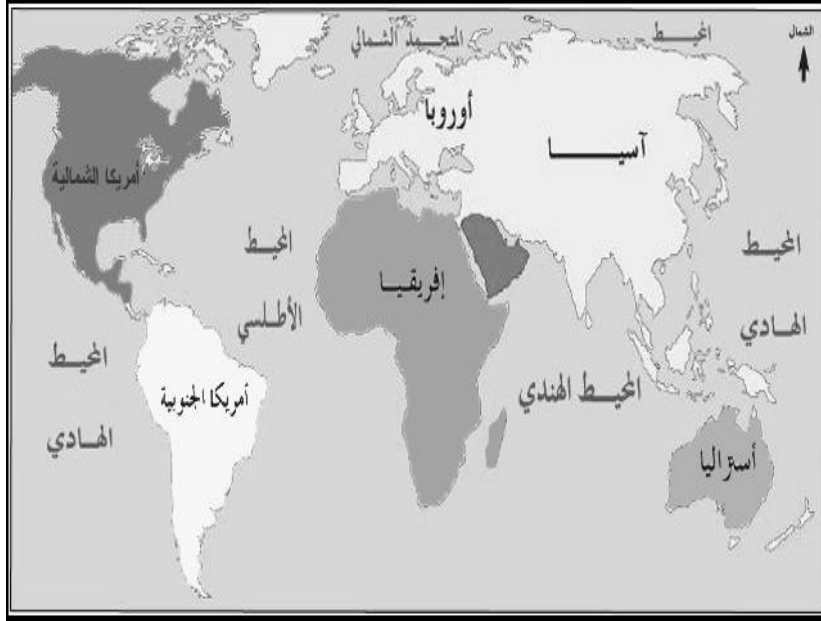
هـ. الحرف اليدوية

مارس سكان منطقة الخليج العربية نشاط اقتصادي :-

- عددي العوامل المؤثرة في نشأة الحضارات بمنطقة الخليج العربية



بالاستعانة بخريطة العالم حوطي موقع شبة الجزيرة العربية ومن ثم عددي أهمية موقعها الجغرافي :-



تدريبات للصف السادس
لمادة الاجتماعيات
للفصل الدراسي الأول
م ٢٠١٧ - ٢٠١٨ م

الاسم

المنطقة التي هاجروا إليها

بنو ياس
المعاضيد
آل صباح
آل اليوسعيد

اكمل الجدول التالي من حيث كل قبيلة ومكان استقرارها:-

اذكري الدول الاستعمارية التي توالى على دول الخليج العربية :-

١. ----- ٢. ----- ٣. -----

اكملی قصة مفهوم الاستعمار :-


هو أن تسيطر ----- علي دولة ----- بهدف استغلال
و ----- (خيراتها)

- اذكري الأساليب التي اتبعتها الاستعمار للسيطرة على
دول الخليج العربية :-

١. ----- ٢. -----



- اكتبی بیانات الاتفاقية كحوار :-




تعرفني علي صاحب الصورة واذكري أهم ألقابه و انجازاته :-



تدريبات للصف السادس
لمادة الاجتماعيات
للفصل الدراسي الأول
٢٠١٧ - ٢٠١٨ م



- عرفني مفهوم التالي :-
الاستقلال :-



اسم حاكم الدوله

تاريخ الاستقلال



اسم حاكم الدوله

تاريخ الاستقلال



- عرف مجلس التعاون الخليجي :-

.....
.....

تدريبات للصف السادس
لمادة الاجتماعيات
للفصل الدراسي الأول
م ٢٠١٧ - ٢٠١٨ م

-حددي دول مجلس التعاون الستة
-في أي دولة خليجية أقامت قمة ٢٧
ضعي علامة *
-في أي دولة خليجية حدث فيها الغزو العراقي الغاشم بوضع
رقم (١)
-من هي أصغر دولة خليجية من حيث مساحة الدولة وذلك
بوضع رقم (٢)



مقر مجلس التعاون
.....


سنة الانشاء
.....



السمات المشتركة لدول
مجلس التعاون الخليجي
.....
.....
.....

الهيكل التنظيمي لمجلس
التعاون
..... ١
..... ٢
..... ٣

قومي بتلوين شعار
مجلس
التعاون الخليجي



صلي علم
كل دولة
بحاكمها

تدريبات للصف السادس
لمادة الاجتماعيات
للفصل الدراسي الأول
٢٠١٧ - ٢٠١٨ م




من هو صاحب الصورة ؟

.....

.....





اضيني يا عبقرية السؤال بالاجابة المثالية :-

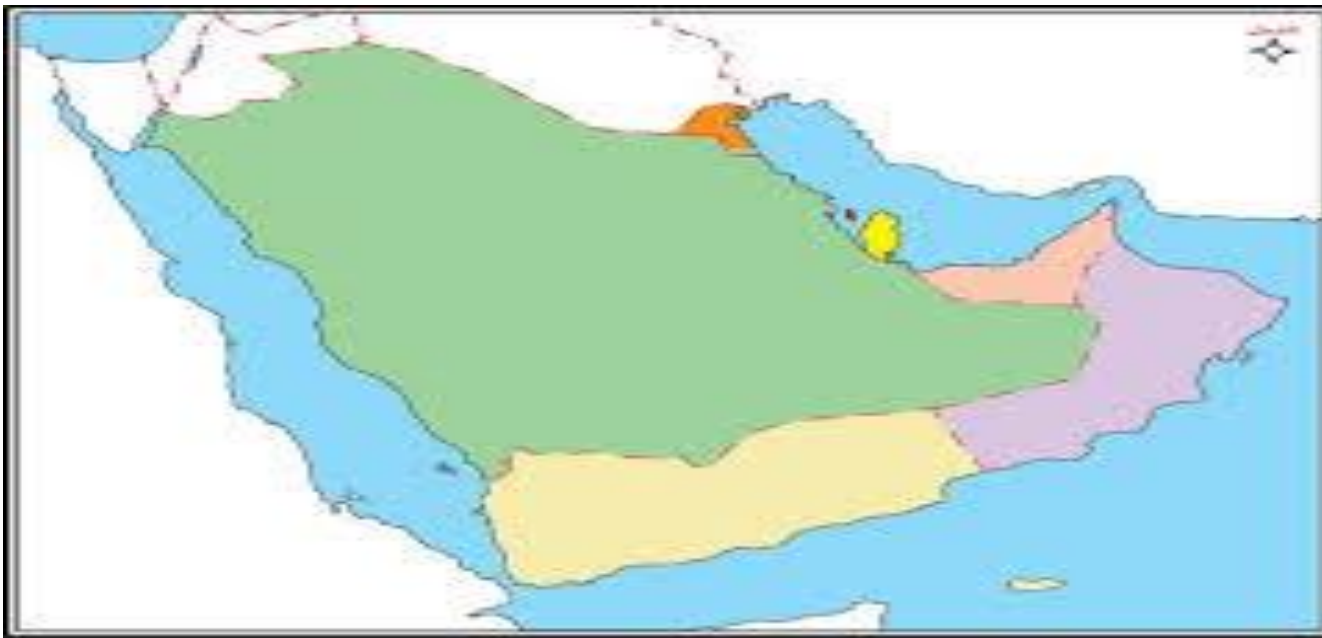
أمامك جدول بالصور تحت كل صورة حددي التعاون الذي تمثله
الصورة :-

من أهم إنجازات مجلس
التعاون الخليجي بين دول
الخليج العربي في حدث
مهم في تاريخ
٢ / أغسطس / ١٩٩٠م

-----	-----	-----	-----
			



طريقي علي
الخريطة
الصماء
وتدربي عليها



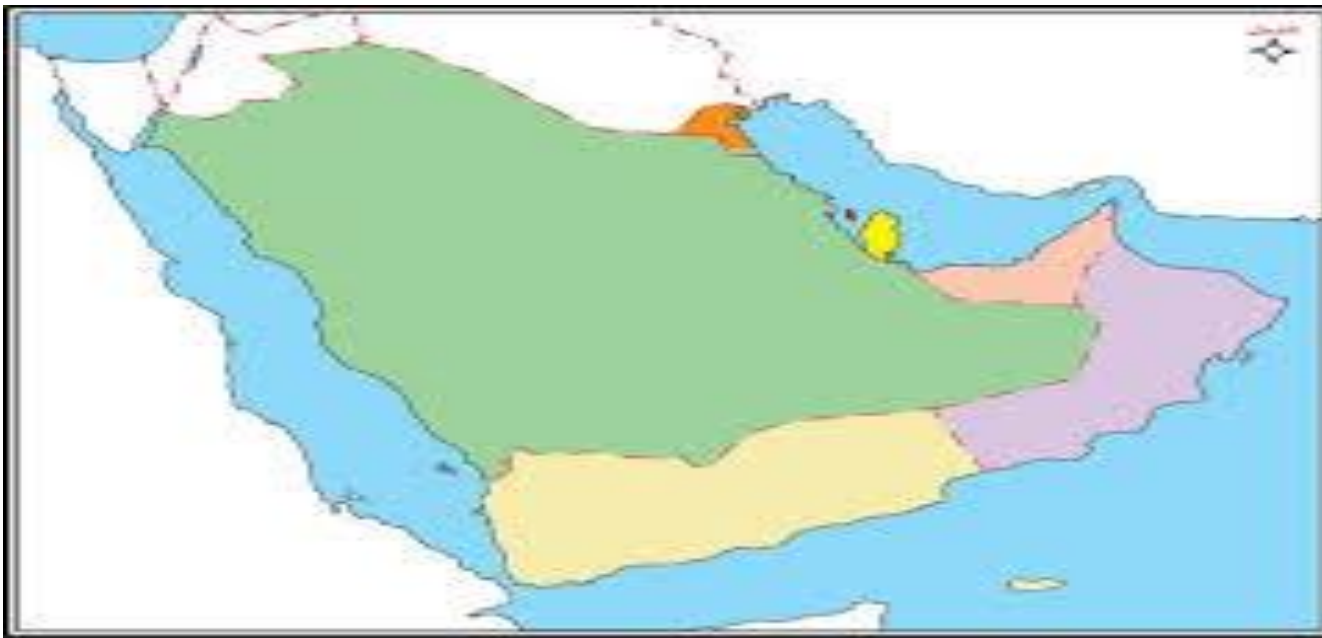
طريقي علي
الخريطة
الصماء
وتدربي عليها



طريقي علي
الخريطة
الصماء
وتدربي عليها



طريقي علي
الخريطة
الصماء
وتدربي عليها



طريقي علي
الخريطة
الصماء
وتدربي عليها



طريقي علي
الخريطة
الصماء
وتدربي عليها